

Код: Т-5/9

Олимпиадная работа  
школьного этапа всероссийской олимпиады школьников  
по географии  
обучающегося 9В класса  
Муниципального бюджетного общеобразовательного учреждения  
казачья средняя общеобразовательная школа №19  
г. Пятигорска Ставропольского края

ФИО

(полностью)

Мирзоян Давид Рудикович

Педагог-наставник:  
МБОУ КСОШ №19

Коваль Т.В.

ФИО учителя

27 сентября 2024 года

**Всероссийская олимпиада школьников по географии  
школьный этап**

**2024/ 2025 учебного года**

**г. Пятигорск**

**Задания тестового и теоретического (письменного) тура**  
возрастная группа (9-11 классы)

**Уважаемый участник олимпиады!**

Вам предстоит выполнить теоретические (письменные) и тестовые задания.

Время выполнения заданий тестовых заданий \_\_ 45 \_\_ минут.

Время выполнения заданий теоретического тура \_\_ 90 \_\_ минут.

Выполнение теоретических (письменных) заданий целесообразно организовать следующим образом:

- не спеша, внимательно прочитайте задание и определите, наиболее верный и полный ответ;

-отвечая на теоретические вопросы и выполняя практические задания, обдумайте и сформулируйте конкретный ответ только на поставленный вопрос:

-если Вы отвечаете на задание, связанное с заполнением таблицы или схемы, не старайтесь детализировать информацию, вписывайте только те сведения или данные, которые указаны в вопросе;

-особое внимание обратите на задания, в выполнении которых требуется выразить Ваше мнение с учетом анализа ситуации или поставленной проблемы. Внимательно и вдумчиво определите смысл вопроса и логику ответа (последовательность и точность изложения). Отвечая на вопрос, предлагайте свой вариант решения проблемы, при этом ответ должен быть кратким, но содержать необходимую информацию;

-после выполнения всех предложенных заданий еще раз удостоверьтесь в правильности выбранных Вами ответов и решений.

Выполнение тестовых заданий целесообразно организовать следующим образом:

-не спеша, внимательно прочитайте тестовое задание;

-определите, какой из предложенных вариантов ответа наиболее верный и полный;

-напишите букву, соответствующую выбранному Вами ответу;

-продолжайте, таким образом, работу до завершения выполнения тестовых заданий;

-после выполнения всех предложенных заданий еще раз удостоверьтесь в правильности ваших ответов;

-если потребуется корректировка выбранного Вами варианта ответа, то неправильный вариант ответа зачеркните крестиком, и рядом напишите новый.

Предупреждаем Вас, что:

-при оценке тестовых заданий, где необходимо определить один правильный ответ, 0– баллов выставляется за неверный ответ и в случае, если участником отмечены несколько ответов (в том числе правильный), или все ответы;

Задание теоретического тура считается выполненным, если Вы вовремя сдаете его членам жюри.

Максимальная оценка за полностью выполненную работу – 100 баллов.

**Школьный этап всероссийской олимпиады школьников  
2024-2025 учебного года по географии 9-11 классы  
(135 минут)**

**Тестовый тур (30 баллов)**

**За каждый правильный ответ 1,5 балла**

**1. Какие из предложенных государств являются федеративными:**

- 1,5  А) Мексика;  Б) Германия; В) Франция; Г) Китай;  Д) Индия

**2. Укажите не верные пары- Государство и часть Мирового океана, с которой оно имеет выход.**

- 1,5 А) Испания- Средиземное море;  Б) Турция- Красное; В) Индия- Бенгальский залив;

- Г) Венесуэла- Карибское море;  Д) Эфиопия- Аравийское море.

**3. Самый малочисленный этнос**

- 0  А) Долганы Б) Кереки В) Ненцы Г) Коми

**4. Определите страну по описанию.**

1,5 Это полуостровное государство по форме правления конституционная монархия. Относится к НИС.

- 0 А) Норвегия; Б) Мексика;  В) Таиланд; Г) Саудовская Аравия.

**5. К какой группировке стран по уровню социально-экономического развития относится Мексика?**

- 0 А) к ключевым  
Б) к нефтедобывающим  
 В) к новым индустриальным  
Г) к наименее развитым

**6. Определите страну по описанию.**

1,5 Это государство входит в десятку самых крупных стран по численности населения и площади.

- 0 А) Нигерия; Б) Судан;  В) Бразилия; Г) Индонезия.

**7. К странам с республиканской формой правления относятся:**

- 1,5  А) Аргентина;  Б) Бельгия; В) Дания; Г) Непал.

**8. Страны, в которых ведущее значение получила нефтяная промышленность, входят в организацию:**

- 0 А) АСЕАН; Б) ОПЕК;  В) БЕНИЛЮКС; Г) БРИКС.

**9. В индекс человеческого развития (ИЧР) не входят показатели, связанные с...**

- 0 А) ВВП на душу населения. Б) объёмом экспорта, В) образованием.  Г) продолжительностью жизни.

**10. Какие виды почв преобладают на территории Ставропольского края?**

- 1,5 А. подзолистые  
 Б. чернозёмные  
В. дерново - подзолистые  
Г. серые лесные

**11. В своём отчёте о землях этой реки Василий Поярков писал: «...родится 5 хлебов: ячмень, овёс, просо, греча, горох .... Родится овощ: огурцы, мак, бобы, чеснок, яблоки, груши, орехи грецкие, орехи русские». Выберите из списка эту реку.**

- 1,5 А. Алдан  
 Б. Амур  
В. Хатанга  
Г. Оленёк

**12. Выберите географический объект, в пределах которого предметы могут отбрасывать тень на юг:**

- 1,5 А. п-ов Малая Азия  
 Б. о-в Шри-Ланка  
В. п-ов Камчатка  
Г. Апеннинский п-ов



13. Определите географические координаты пункта, если известно, что 21 марта угол падения полуденных лучей Солнца составляет  $56^\circ$ , а тень от предметов падает к югу. Местное время отстает от Гринвичского на 4 часа.

- 1.5
- А)  $34^\circ$  ю.ш.  $60^\circ$  з.д.      Б)  $34^\circ$  с.ш.  $60^\circ$  з.д.;
- В)  $34^\circ$  ю.ш.  $60^\circ$  в.д.      Г)  $34^\circ$  с.ш.  $60^\circ$  в.д.

14. Для какой из перечисленных территорий России, расположенных в умеренном климатическом поясе, характерен резко континентальный климат?

- 1.5
- А) Приморье      Б) Кольский полуостров
- В) полуостров Камчатка       Г) Забайкалье

15. На каком из перечисленных рек наводнение наиболее часто происходит в летнее время?

- 1.5
- А) Амур      Б) Волга      В) Дон      Г) Кама

16. Группа туристов из Италии хочет своими глазами увидеть необычную для них природу российской тундры. Какой заповедник им необходимо для этого посетить?

- 1.5
- А) Курильский       Б) Таймырский      В) Оренбургский      Г) Алтайский

17. К традиционным занятиям, какого из перечисленных народов России относится оленеводство и рыболовство?

- 1.5
- А) башкиры      Б) калмыки       В) ненцы      Г) кабардинцы

18. Какой физико-географический объект объединяет такие страны как Россия, Туркмения, Иран, Казахстан, Азербайджан?

- 1.5
- А) Каспийское море      Б) Кавказские горы
- В) Уральские горы      Г) Прикаспийская низменность

19. Какой из перечисленных городов России находится в основной полосе расселения?

- 1.5
- А) Мурманск       Б) Краснодар      В) Магадан      Г) Норильск

20. Какой из опасных геоморфологических процессов широко развит на территории Ставропольского края?

- 1.5
- А) сели      Б) лавины       В) оползни

Теоретический тур – 70 баллов

Задание 1. «Географическая загадка» (10 баллов)

«... это одна из самых необычных пустынь мира, которая занимает узкую полосу суши на юго-западном побережье одного из материков, шириной около 100 км».

Что это за пустыня, и на территории каких стран она располагается? В чём необычность этой пустыни?

Намиб. Ангола, Южная Африка  
Самая древняя пустыня в мире.

2+2+5=9.5.

**Задание 2. (20 баллов)** Определите по описанию природные объекты, входящие в список Всемирного наследия ЮНЕСКО, страну, где они находятся. Охарактеризуйте, в чём состоит уникальность данных объектов (не более 3-х положений). Прослеживается ли влияние деятельности человека на природу?

**А.** Своеобразный природный объект находящийся в зоне схождения литосферных плит, имеет порядка 30 действующих и трех сотен потухших вулканов. Его можно назвать природным музеем вулканологии.

**Б.** Уникальный природно-антропогенный ландшафт и территория исключительного эстетического значения, крупнейшее песчаное тело, входящее, в балтийский комплекс песчаных кос, аналогов которому нет в мире.

**В.** Красивейший водопад, название которого происходит от двух слов языка племён гуарани «большая вода». В 2011 году по результатам всемирного конкурса был признан одним из Новых природных семи чудес света.

**Г.** Международный биосферный заповедник, первый в мире национальный парк (основан 1 марта 1872 года). Национальный парк находящийся, в кратере огромного Супервулкана. Также является природным заповедником и охраняется ЮНЕСКО. Своё название популярный парк приобрёл благодаря истоку реки, который в переводе означает «Желтый камень».

Объект	Название объекта	Страна	В чём уникальность	Антропогенное воздействие на природу
А	Камчатка Вп-ов 15.	Россия 15.	Есть долина гейзеров 0,58.	МУСОР 0,58.
Б	Куршская коса 15.	Россия 15.		

В	Водопад Игуасу 15.	Бразилия, Аргентина 15.		
Г	Йеллоустоун сми нац. парк 15.	США 15.		

98.




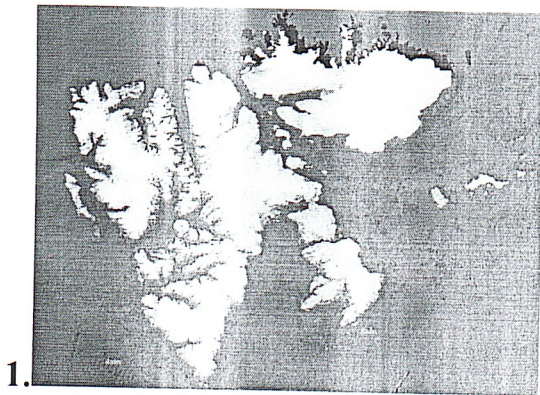
**Задание 3. Определите по описанию море и ответьте на предложенные вопросы, с ним связанные. (20 баллов)**

Это внутреннее море бассейна Атлантического океана. На западе его воды омывают восточные берега Балканского полуострова, на севере оно ограничено Восточно-Европейской равниной, на востоке - Кавказским побережьем и Колхидской низменностью, на юге - побережьем Малой Азии.

1. Как называется это море? *Черное море 25.*
2. Какая водная граница планетарного значения проходит по поверхности этого моря?
3. Какие страны расположены по берегам этого моря? *Болгария, Турция 25.*
4. Какие крупнейшие реки впадают в это море? *Днепр, Дунай 25.*
5. Через какие проливы и моря оно связано с Атлантическим океаном?
6. Назовите полуостров, омывающий берега этого моря, являющийся причиной многочисленных споров и разногласий за его обладание? *Крым 25. 88.*



Задание 4. Определите по космическим снимкам архипелаги и их местоположение



За каждое правильное название и местоположение по 2,5 балла (максимально 20 баллов)

№	Название архипелага	Местоположение
1	Шетланды 2,58.	Баренцево море 2,58.
2	Новая Земля 0	Карское море 0
3		
4	Филиппины 2,58.	Тихий океан 2,58.

/108.